



SINDHI HIGH SCHOOL, BENGALURU
ANNUAL EXAMINATION 2025-26
SUBJECT: ENGLISH

Class: V
Date: 25.3.2026
No of Sides: 5

Max Marks: 60
Reading Time: 15 mins
Writing Time: 2hr 15mins

GENERAL INSTRUCTIONS:

- This question paper consists of 3 sections: A, B and C.
- Section A: Reading.
- Section B: Writing and Grammar.
- Section C: Literature.
- Attempt all the questions and adhere to the word limit.

Q.no	Section A (Reading)	Marks
Q1	<p>Read the passage carefully and answer the questions that follow: (8x1=8)</p> <p>The Role of Technology</p> <p>Technology has changed the way people live and work. Today, we can send messages, attend online classes, and search for information within seconds. Machines and computers help us finish our work faster and more accurately. Because of technology, distance is no longer a big problem for communication and learning.</p> <p>In schools, digital tools make learning more interesting and creative. Students use educational apps, watch lesson videos, and take online tests. Teachers prepare presentations and share notes through the internet. In hospitals, modern equipment helps doctors find diseases early. Farmers also depend on weather apps and machines to improve farming.</p> <p>Although technology is very useful, it must be used carefully. Spending too much time on screens can affect sleep, eyesight, and concentration. It may also reduce face-to-face communication with friends and family. Children should learn to manage their time and use gadgets only when needed. Responsible use of technology helps us grow smarter and healthier.</p> <p>1. How has technology reduced the problem of distance?</p> <p>a) By building more roads b) By using technology c) By traveling faster d) By moving to cities</p> <p>2. How do machines and computers help people in their work?</p> <p>a) They make work more difficult b) They increase working hours c) They help us finish work faster and more accurately d) They replace all workers</p> <p>3. What do farmers use to improve farming?</p> <p>a) Online games b) social media c) Weather apps d) Television</p>	8

4. What is one negative effect of spending too much time on screens?

- a) Better sleep
- b) Improved memory
- c) Affected eyesight
- d) Stronger communication

5. What helps doctors find diseases early in hospitals?

- a) School presentations
- b) Modern equipment
- c) Weather reports
- d) Farming machines

6. How quickly can we send messages and search for information today?

- a) Hours
- b) Days
- c) Minutes
- d) Seconds

7. What happens when we use technology responsibly?

- a) We become lazy
- b) We waste time
- c) Smarter and healthier
- d) More dependent

8. What may reduce if people spend too much time on screens?

- a) Online learning
- b) Face-to-face communication
- c) Digital skills
- d) Internet speed

Read the passage carefully and answer the questions that follow: (8x1=8)

AI Awareness and Responsible Use

Q2

Artificial Intelligence, or AI, is a special type of technology that helps machines think and learn like humans. It is used in mobile phones, computers, voice assistants, and learning apps. AI helps students find answers quickly, correct spelling mistakes, and practice lessons online. It also helps teachers prepare study materials and check students' work easily.

AI is used in many areas of life. Doctors use AI to find diseases early, and farmers use it to predict weather and protect crops. In banks and shops, AI helps manage records and serve people faster. However, children should remember that AI is a tool to help them learn, not something to depend on all the time. They should think carefully and try to solve problems on their own too.

Using AI wisely is very important. Students should not copy answers blindly from AI tools. They must learn to check information and use it honestly. They should never share personal details online and must limit screen time. When children use AI responsibly, it helps them become smart, confident, and responsible learners.

1. What is AI mainly used for by students?

- a) To replace friends
- b) To play games
- c) It is a tool to help learning
- d) To avoid studying

2. When children use AI responsibly, they become _____.

- a) Lazy and careless
- b) Dependent and weak
- c) Smart and confident
- d) Angry and rude

3. Find the Antonym of 'dishonest' and 'irresponsible' from the passage?

4. What does AI help machines do?

- a) Cook food
- b) Think and learn like humans
- c) Sleep well
- d) Grow plants

5. In banks and shops, AI helps manage _____.

- a) crops
- b) records
- c) games
- d) homework

6. What is the main message of the passage?

- a) AI should replace humans
- b) AI must be used wisely and responsibly
- c) AI is only for doctors
- d) AI is harmful

7. What does "Artificial Intelligence" (AI) mean?

8. Students should never share their _____ online and must limit their _____ time. (Para 3)

Section B: Grammar and Writing

Q3 Write a letter to your cousin describing your summer holidays. 4

Q4 Write an Autobiography on "A Surprise That Made Me Happy"
-Say when the surprise happened (birthday, school day, festival).
-Describe what the surprise was (party, gift, trip, good news).
-Write how you felt when you saw it 4

Q5 Do as directed:

a) Complete the sentences with suitable parts of speech: (1x4=4) 4

1. The weather became _____ after the storm. (Adjective)

2. He answered the question _____. (Adverb)

3. I will help you _____ you ask politely. (Conjunction)

4. The dog ran _____ the bridge. (Preposition)

b) Fill in the blanks using suitable Interjections and Conjunctions: (1x4=4)

_____! I was very excited today because I was going on a school picnic. I wanted to play games _____ eat tasty food with my friends. _____! It started raining in the morning. _____ we felt worried.

c) Change the underlined noun into a pronoun and rewrite the sentence. (1x2=2)

1. The boys won the prize.
2. Ravi and I went to the library.

d) From the given lines below pick out one: (½ x4=2)

Noun, Pronoun, Verbs, Adverb

The cat slept quietly on the sofa. It looked happy and content. Suddenly, it jumped quickly to catch a butterfly.

Section C: Literature

Q6 a) Read the extracts and answer the questions: (1x2=2)

"The boy on the bed was not asleep. 'Pandit Ravi Shankar!' he said. Pandit Ravi Shankar, the sitar maestro? He raised himself up on his elbows for one second, then fell back." But his eyes were shining. 'We mustn't miss the chance,' he said. 'And I... always wanted to hear him and see him.'

1. The phrase "his eyes were shining" means _____

- a) He was crying
- b) He was sleepy
- c) He was excited
- d) He was angry

2. The main quality shown by the boy in the extract is.....

- a) He was lazy and careless.
- b) He was weak but still very eager and determined.
- c) He was strong but uninterested.
- d) He wanted to give up easily.

b) Read the extracts and answer the questions: (1x2=2)

Pastels are too tricky,
And pens, they lead to splodge.
Gluing's just too sticky,
Papier-mâché I just bodge.
Art is really taxing,
This creating tires me out.
And I'm really far too messy,
Of that I have no doubt.

1. Which line best conveys the speaker's sense of physical effort?

- a) "Pastels are too tricky,"
- b) "Papier-mâché I just bodge."
- c) "Art is really taxing,"
- d) "Of that I have no doubt."

2. Which word best describes the speaker?

- a) Neat
- b) Careful
- c) Messy
- d) Patient

Q7 Answer any 3 questions from the following:

1 "Explain Uncle Henry's worry and his words to Aunt Em." From the lesson "Dorothy and the Munchkins" (3x2=6)

2. Why does the sky seem 'grouchy grey', and what symbolises the 'Mays' and 'Junes' in the poem- 'Since Hanna moved away'.

3 "State what made David weep and roar, and why the fisherman failed to understand him." (Alone on the island)

4. Explain the reason Pierre was panic-stricken. (A secret for two)

Q8 Answer any 2 questions from the following:

1. Describe how Ravi found out that he had lost his gift. (2X3=6) (The magic pot)

2. What did Abdullah and Ahmed do when they saw the crowds on the streets? (The two countrymen)

3. Nikola Tesla continued to develop new inventions even when he faced bankruptcy. Explain? (The forgotten inventor)

Q9 Answer any 2 questions from the following:

1. "State how the two countrymen recognized each other." (2X4=8) (The two countrymen)

2. "Describe the bond between Pierre and Joseph and the secret they confided in each other." (A secret for two)

3. "Write about why the old man turned Ravi's pot into a magical pitcher and the kindness he liked in Ravi." (The magic pot)



SINDHI HIGH SCHOOL , BENGALURU
ANNUAL EXAMINATION (2025-26)
SUBJECT: HINDI(Add Lang)

Grade : 5
Date: 23 -03-2026
No Of Printed Sides - 5

Max Marks: 60
Reading Time: 15 minutes
Writing Time: 2hrs15mins

सामान्य निर्देश-

- 1) सभी प्रश्नों के उत्तर क्रमानुसार लिखिए ।
- 2) इस प्रश्न-पत्र में चार खंड हैं-क,ख ग और घ ।
- 3) सभी खंडों के सभी प्रश्नों के उत्तर देना अनिवार्य है।
- 4) शब्द सीमा के अनुसार उत्तर लिखिए ।

खंड - क

। निम्नलिखित गद्यांश को पढ़कर पूछे गए प्रश्नों के सही विकल्प चुनकर लिखिए:- (5)

पुस्तकें मनुष्य की सबसे अच्छी मित्र होती हैं। वे हमें ज्ञान देती हैं, सही और गलत में अंतर समझाती हैं तथा हमारे विचारों को व्यापक बनाती हैं। पुस्तकें केवल परीक्षा में सफलता दिलाने का साधन नहीं हैं, बल्कि वे जीवन को सही दिशा भी दिखाती हैं। नियमित रूप से पुस्तकें पढ़ने वाला व्यक्ति आत्मविश्वासी और विवेकशील बनता है। आज के डिजिटल युग में लोग पुस्तकों से दूर होते जा रहे हैं और अधिक समय मोबाइल व इंटरनेट पर व्यतीत कर रहे हैं। पुस्तकों से दूर होने पर एकाग्रता कम होती है। यदि हम प्रतिदिन कुछ समय पुस्तकों के लिए निकालें, तो हमारी भाषा-शैली, सोचने की क्षमता और व्यक्तित्व में सकारात्मक परिवर्तन आ सकता है। इसलिए विद्यार्थियों को यह सलाह दी गई है कि वे अच्छी पुस्तकों को अपना सच्चा मित्र बनाएँ।

1. मनुष्य की सबसे अच्छी मित्र कौन होती हैं।?
 - i) पुस्तकें
 - ii) रिस्तेदार
 - iii) पड़ोसी
 - iv) बहन
2. नियमित रूप से पुस्तकें पढ़ने वाला व्यक्ति कैसा बनता है?
 - i) आलसी
 - ii) घबराया हुआ
 - iii) आत्मविश्वासी और विवेकशील
 - iv) चंचल

3. आज लोग पुस्तकों से दूर क्यों होते जा रहे हैं?

i) पढ़ाई कठिन होने के कारण

ii) पुस्तकों की कमी के कारण

iii) मोबाइल और इंटरनेट के कारण

iv) शिक्षकों की कमी के कारण

4. पुस्तकों से दूर होने का क्या प्रभाव पड़ता है?

i) समय मिलता है

ii) गहन ज्ञान मिलता है

iii) एकाग्रता कम होती है

iv) भाषा सुधरती है

5. विद्यार्थियों को क्या सलाह दी गई है?

i) केवल इंटरनेट का उपयोग करें

ii) पुस्तकों को अपना सच्चा मित्र बनाएँ

iii) खेलकूद छोड़ दें

iv) परीक्षा की चिंता करें

खंड -ख

II क . दिए गए शब्दों के विलोम शब्द लिखिए :-

(2)

1)अभ्यास 2)कायर 3) विजय 4) आशा

ख.दिए गए शब्दों के एक -एक पर्यायवाची शब्द लिखिए :-

(2)

1)लघु 2) मंदिर 3)मानव 4) डर

ग.अनेक शब्दों के लिए एक शब्द लिखिए :-

(2)

1)जिसने अभ्यास किया हो -

2) जिसका मूल्य अधिक हो -

घ.दिए गए मुहावरों का अर्थ लिखिए :-

(2)

1)छप्पड़ फाड़कर देना

2) पलकें भरी होना

ङ.दिए गए शब्दों के दो अलग -अलग अर्थ लिखिए :-

(2)

1)व्यंजन = _____ , _____

2)पानी = _____ , _____

च. वाक्य बनाइए :-

(2)

1) यात्रा 2) मुश्किल

छ. अशुद्ध शब्दों को शुद्ध करके लिखिए :-

(1)

1) संयुक्त 2) सानदार

ज. नीचे दिए गए शब्दों के मानक रूप लिखिए :-

(1)

1) निसान 2) देखि

झ. 'ता' 'अथवा' 'त्व' लगाकर भाववाचक संज्ञा बनाइए :-

(1)

1) स्वाधीन 2) मम

खंड- ग

III. निम्नलिखित गद्यांश को पढ़कर पूछे गए प्रश्नों के सही विकल्प चुनकर लिखिए :- (5)

पिछले कई दिनों से शरद परेशान था। उसके यहाँ से कीमती चीज़ें गायब हो रही थी। कभी मिनी टीवी कभी लैपटॉप तो कभी घड़ी और कभी न जाने क्या-क्या गायब हो जाता था। घर का सारा काम तो रोबोट किया करता था। यहाँ तक की घर की पहरेदारी का काम भी रोबोट के ही सुपुर्द था। शरद ने निश्चय किया कि मैं एक दिन रोबोट सहित पूरे घर की निगरानी करूँगा। वह रोबोट सहित घर की निगरानी करनी शुरू कर दी। फिर रात घिर आई अब नींद सताने लगी थी, लेकिन वह नींद को किसी तरह भगाने की कोशिश कर रहा था। रोज़ की तरह ही रोबोट दरवाज़े के पास अपनी जगह पर चुपचाप खड़ा था। शरद की आँखें जब नींद से बोझिल होने लगी तो, उसने सोचा जाकर मुँह धो आए, उसने आगे की ओर कदम बढ़ाया ही था कि अचानक उसने देखा रोबोट अपने स्थान से धीरे-धीरे सरककर उसके कमरे की ओर बढ़ रहा था। यह देखकर उसे बहुत आश्चर्य हुआ कि रोबोट ने एक मेज़ पर से वह टीवी युक्त पेन उठाया जो कुछ समय पहले उसके चाचा जी अमेरिका से लाए थे और वापस अपने स्थान की ओर बढ़ने लगा।

1) शरद परेशान क्यों था ?

i) घर से चीज़ें गायब हो रही थी

ii) रोबोट गायब हो गया था

iii) बस्ता गायब हो गया था

iv) शरद बीमार था

2) घर का सारा काम कौन करता था ?

i) शरद

ii) रोबोट

iii) शरत की माँ

iv) नौकर

3) शरद ने किसकी निगरानी करने का निश्चय किया ?
i) पड़ोसी की ii) रोबोट की iii) घर की iv) स्कूल की

4) रोबोट कहाँ खड़ा था ?

i) दरवाज़े के पास ii) नल के पास iii) पेड़ के नीचे iv) नियंत्रण कक्ष के पास

5) रोबोट उसके कमरे से क्या चीज़ लेकर अपने स्थान की ओर बढ़ने लगा ?
i) लैपटॉप ii) टीवी iii) घड़ी iv) टीवी युक्त पेन

IV निम्नलिखित गद्यांश को पढ़कर पूछे गए प्रश्नों के सही विकल्प चुनकर लिखिए :- (5)

मेरी पहली टीचर सिस्टर जेम्स हमें स्कूल में पढ़ती थी और हॉस्टल में हमारी गार्डियन भी थी। अगर स्कूल की नन को सिस्टर कहना ज़रूरी ना होता तो यकीन से कह सकता हूँ, हम हॉस्टल में रहने वाले सभी बच्चे उन्हें मदर जेम्स ही कहते। जो समय बीत गया है जो बातें हो चुकी है उसका असर कितनी सारी जगहों पर नज़र आता है। कई ऐसी भी जगहों में जहाँ भी नहीं जा सकता है। वरना क्यों चार-पाँच साल के बच्चे 55 साल की महिला को सिस्टर जेम्स कहकर पुकारते! उनकी आवाज बड़ी ऊँची और सख्त थी। वे आसपास होती तो अक्सर हम डरे हुए से रहते। हॉस्टल में हर चीज़ को रखने की जगह तय थी, ताकि उन्हें दूँढना ना पड़े। सिस्टर जेम्स अक्सर बात-बेबात तमाचे भी जड़ देती थीं। मेरी याद में अभी भी उन तमाचों का दर्द ताज़ा है।

1) हॉस्टल की गार्डियन कौन थी ?

i) सिस्टर जेम्स ii) सिस्टर टेरेसा iii) सिस्टर मोनिका iv) सिस्टर एलिना

2) सिस्टर जेम्स की आवाज़ कैसी थी ?

i) मधुर आवाज़ थी ii) सुरीली आवाज़ थी iii) ऊँची और सख्त आवाज़ थी iv) डरावनी आवाज़ थी

3) सिस्टर जेम्स की उम्र क्या थी ?

i) 55 ii) 65 iii) 75 iv) 45

4) सिस्टर जेम्स अक्सर बात-बेबात पर क्या जड़ देती थी ?

i) डाँट जड़ देती थी ii) तमाचे जड़ देती थी iii) मुक्का जड़ देती थी iv) छड़ी जड़ देती थी

हाॅस्टल में हर चीज़ को रखने की जगह क्यों तय थी ?

i) छुपाने के लिए

ii) ढूँढ़ना न पड़े

iii) सजाने के लिए

iv) उसे भूल जाने के लिए

v दिए गए प्रश्नों के उत्तर एक वाक्य में लिखिए :-

(1×8=8)

- 1) बोली को मुख के बाहर कब निकालना चाहिए ?
- 2) जहाज़ के टूटने पर गुलीवर किनारे पर कैसे आया ?
- 3) विपत्ति में कायर क्या खो देते हैं ?
- 4) जादूगर अलादीन से बार-बार क्या माँग रहा था ??
- 5) साईमन कमीशन के विरोध में लोगों ने कौनसा नारा लगाया ?
- 6) अंग्रेज़ों के झंडे का क्या नाम था ?
- 7) अलादीन ने गुफ़ा के भीतर क्या देखा ?
- 8) बाधाएँ किसे प्यारी हैं ?

vi दिए गए प्रश्नों के उत्तर दो-तीन वाक्यों में लिखिए :-

(2×6=12)

- 1) रहीम के अनुसार सुई जैसी तुच्छ वस्तुएँ हमारे लिए महत्वपूर्ण क्यों हैं ?
- 2) गुलीवर जब ज़ोर से चिल्लाया तब क्या हुआ ?
- 3) सिल पर निशान कैसे पड़ जाते हैं ?
- 4) महात्मा गाँधी ने कौन-कौन से दो नारे दिए ?
- 5) जादूगर अलादीन को कहाँ ले गया ? उसने अलादीन को कौन सी चीज़ पहनाई ?
- 6) पुलिस के सख्त पहरे के बीच आंदोलनकरियों ने साईमन तक अपनी बात पहुँचाने के लिए कौन सा तरीका अपनाया ?

खंड - घ

VII 1) समय का महत्त्व बताते हुए छोटी बहन को पत्र लिखिए ।

(5)

अथवा

2) अपने बड़े भाई के विवाह पर आमंत्रित करते हुए अपने मित्र को पत्र लिखिए ।

VIII दिए गए एक विषय पर 40-50 शब्दों में अनुच्छेद लिखिए :-

(5)

1) पुस्तकालय

2) यदि मैं वृक्ष होता

3) अनुशासन



Sindhi High School, Bengaluru

Annual Examination-2025-26

Subject: Kannada

Class: V

Marks: 60

Date: 18/3/26

Reading Time: 15Mins

No of printed sides : 6

Writing Time: 2-15Hrs

ಸೂಚನೆಗಳು:

- ಪತ್ರಿಕೆಯು A ಮತ್ತು B ಎಂಬ ಭಾಗಗಳನ್ನು ಒಳಗೊಂಡಿರುತ್ತದೆ.
- ಪ್ರಶ್ನೆಪತ್ರಿಕೆಯಲ್ಲಿ ಒಟ್ಟು 12 ಮುಖ್ಯ ಪ್ರಶ್ನೆಗಳಿರುತ್ತವೆ.
- ಪ್ರತಿಯೊಂದು ಪ್ರಶ್ನೆಗಳ ಸೂಚನೆಗಳನ್ನು ಸರಿಯಾಗಿ ಓದಿಕೊಂಡು ಉತ್ತರಿಸಿ.
- ಪ್ರಶ್ನೆ ಮತ್ತು ಉಪಪ್ರಶ್ನೆಗಳ ಸಂಖ್ಯೆಯನ್ನು ತಪ್ಪಿಲ್ಲದೆ ಬರೆಯಿರಿ.

ಭಾಗ - A	ವಾಚನ ಮತ್ತು ಗ್ರಹಿಕಾ ಕೌಶಲ್ಯ	15 ಅಂಕಗಳು
(30 ಅಂಕಗಳು)	ಅನ್ವಯಿಕ ವ್ಯಾಕರಣ	10 ಅಂಕಗಳು
	ವರ್ಯಪೂರಕ ಅಧ್ಯಯನ	5 ಅಂಕಗಳು
ಭಾಗ-B	ಬರವಣಿಗೆ ಕೌಶಲ್ಯ	8 ಅಂಕಗಳು
(30 ಅಂಕಗಳು)	ವರ್ಯಗಳ ಅಧ್ಯಯನ	22 ಅಂಕಗಳು
	ಒಟ್ಟು ಅಂಕಗಳು	60 ಅಂಕಗಳು

PART-A (30 ಅಂಕಗಳು)

SECTION-A

(ವಾಚನ ಮತ್ತು ಗ್ರಹಿಕಾ ಕೌಶಲ್ಯ) = 15 ಅಂಕಗಳು

ಈ ಕೆಳಗಿನ ಗದ್ಯಾಂಶವನ್ನು ಓದಿಕೊಂಡು, ಕೊಟ್ಟಿರುವ ಪ್ರಶ್ನೆಗಳಿಗೆ ಉತ್ತರವನ್ನು ಆರಿಸಿ ಬರೆಯಿರಿ.

ಕರ್ನಾಟಕದಲ್ಲಿ ಸಾಕಷ್ಟು ಯಾತ್ರಾಸ್ಥಳಗಳಿವೆ. ಅವುಗಳಲ್ಲಿ ಮೈಸೂರು ಜಿಲ್ಲೆಯಲ್ಲಿರುವ ನಂಜನಗೂಡು ಸಹ ಒಂದು. ನಂಜನಗೂಡು ಮೈಸೂರಿನಿಂದ ಕೇವಲ ೧೯ ಕಿ.ಮೀ ದೂರದಲ್ಲಿದೆ. ಇದು ಸಣ್ಣ ಊರಾದರೂ ಅದರ ಕೀರ್ತಿ ದೊಡ್ಡದು. ಈ ಊರಿನಲ್ಲಿ ಕಪಿಲಾ ನದಿ ಎಂಬ ಪವಿತ್ರ ನದಿ ಹರಿಯುತ್ತದೆ. ನದಿಯ ದಡಭಾಗದಲ್ಲಿ ಊರಿನ ಪ್ರಮುಖ ದೈವವಾದ ಶ್ರೀಕಂಠೇಶ್ವರ ಸ್ವಾಮಿಯ ದೇವಸ್ಥಾನವಿದೆ. ಈ ದೇವಸ್ಥಾನವೂ ವಿಶಾಲವಾಗಿಯೂ, ಸುಂದರವಾಗಿಯೂ ಇದೆ. ಇದು ಒಂದು ಪುಣ್ಯ ಕ್ಷೇತ್ರವಾಗಿರುವುದರಿಂದ ದಿನನಿತ್ಯವೂ ಭಕ್ತರು ಬರುತ್ತಲೇಯಿರುತ್ತಾರೆ. ಸೋಮವಾರ ಶಿವನಿಗೆ ಪ್ರಿಯವಾದ ದಿನವಾದ್ದರಿಂದ, ಆ ದಿನ ಭಕ್ತರ ಸಂಖ್ಯೆ ಹೆಚ್ಚಾಗಿರುತ್ತದೆ. ಶ್ರೀಕಂಠೇಶ್ವರ ದೇವರನ್ನು ನಂಜುಂಡೇಶ್ವರ ಎಂತಲೂ ಕರೆಯುತ್ತಾರೆ.

ಇತಿಹಾಸದ ಪ್ರಕಾರ ಈ ದೇವಸ್ಥಾನವು ತುಂಬಾ ಸಣ್ಣದಾಗಿತ್ತು. ಅದರ ೧೧ನೇ ಶತಮಾನದಲ್ಲಿ ರಾಜನು ಇದನ್ನು ದ್ರಾವಿಡ ಶೈಲಿಯಲ್ಲಿ ದೊಡ್ಡದಾಗಿ ಕಟ್ಟಿಸಿದನು. ಅಭಿವೃದ್ಧಿಪಡಿಸಿದನು. ಸಂತರ ಮೈಸೂರಿನ ರಾಜಮನೆತನದವರು ಅಭಿವೃದ್ಧಿಪಡಿಸಿದರು. ಮೈಸೂರಿನ ಜನಪ್ರಿಯ ಮಹಾರಾಜರಾಗಿದ್ದ ಮುಮ್ಮಡಿ ಕೃಷ್ಣರಾಜ ಒಡೆಯರು ಕೆಲವೊಂದು ಹೊಸ ಸೌಲಭ್ಯಗಳನ್ನು ಕಲ್ಪಿಸಿದರು. ದೇವರಿಗಾಗಿ ನಾನಾ ಬಗೆಯ ಆಭರಣಗಳನ್ನು ಮಾಡಿಸಿಕೊಟ್ಟರು. ಹಿಂದೆ ಟಿಪ್ಪುಸುಲ್ತಾನನ ತಂದೆಯಾದ ಹೈದರಾಲಿಯ ಆಜ್ಞೆಯಂತೆ ಆನೆಗೆ ಕಣ್ಣು ಬೇನೆ ಬಂದಾಗ, ಅನೇಕ ಪ್ರಸಿದ್ಧ ವೈದ್ಯರಿಂದ ಚಿಕಿತ್ಸೆ ಮಾಡಿಸಿದಾಗಲೂ ದಿನಗಳಲ್ಲಿ ಆನೆಗೆ ಕಣ್ಣು ನೋವು ವಾಸಿಯಾಯಿತೆಂದು, ಅಂದಿನಿಂದಲೇ ಶ್ರೀಕಂಠೇಶ್ವರ ದೇವರನ್ನು ಪ್ರಾರ್ಥಿಸಿದ ಕೆಲವೇ ದಿನಗಳ ಜಾತ್ರೆ ಕೂಡ ನಡೆಯುತ್ತದೆ. ಹಾಗೆಯೇ ಇಲ್ಲಿಯ ನಂಜನಗೂಡು ರಸಬಾಳೆ ಹಣ್ಣು ಹಲ್ಲುಪುಡಿ ಹಾಗೂ ಆಯುರ್ವೇದದ ಔಷಧಿಗಳಿಗೂ ಪ್ರಸಿದ್ಧಿ ಪಡೆದಿದೆ.

5x1=5

ಪ್ರಶ್ನೆಗಳು:-

1. ನಂಜನಗೂಡಿನಲ್ಲಿ ಹರಿಯುವ ನದಿ _____
 (A) ಕುಮುದ್ವತಿ (B) ಕಪಿಲಾ (C) ಕಾವೇರಿ (D) ಗೋದಾವರಿ
2. ೧೧ನೇ ಶತಮಾನದಲ್ಲಿದ್ದ ಚೋಳರಾಜರು _____ ಶೈಲಿಯಲ್ಲಿ ಶ್ರೀಕಂಠೇಶ್ವರನ ದೇವಾಲಯವನ್ನು ಕಟ್ಟಿಸಿದರು.
 (A) ಪಲ್ಲವ (B) ಹೊಯ್ಸಳ (C) ದ್ರಾವಿಡ (D) ನಾಗರ
3. ಹೈದರಾಲಿಯು ಶ್ರೀಕಂಠೇಶ್ವರನನ್ನು ಪ್ರೀತಿಯಿಂದ _____ ಎಂದು ಕರೆಯುತ್ತಿದ್ದನು.
 (A) ನೀಲಕಂಠ (B) ನಟರಾಜ (C) ಹಕೀಮ್ ನಂಜುಂಡ (D) ಭೋಲೇನಾಥ್
4. ಮೈಸೂರಿನ ರಾಜಮನೆತನದ ಪ್ರಸಿದ್ಧ _____ ದೇವಾಲಯಕ್ಕೆ ನಾನಾ ಬಗೆಯ ಆಭರಣಗಳು ಮತ್ತು ಹೊಸ ಸೌಲಭ್ಯಗಳನ್ನು ಒದಗಿಸಿದರು.
 (A) ಮುಮ್ಮಡಿ ಕೃಷ್ಣರಾಜ ಒಡೆಯರ್ (B) ಜಯಚಾಮರಾಜರಾಜೇಂದ್ರ ಒಡೆಯರ್
 (C) ಯದುವೀರ್ ಕೃಷ್ಣದತ್ತ ಒಡೆಯರ್ (D) ನಾಲ್ವಡಿ ಕೃಷ್ಣರಾಜ ಒಡೆಯರ್
5. ನಂಜನಗೂಡಿನಲ್ಲಿ ರಸಬಾಳೆ ಹಣ್ಣು ಹಲ್ಲುಪುಡಿಯಲ್ಲದೆ _____ ಔಷಧಿಗಳಿಗೂ ಪ್ರಸಿದ್ಧಿ ಪಡೆದಿದೆ.
 (A) ಆಲೋಪತಿ (B) ಹೋಮಿಯೋಪತಿ (C) ಯುನಾನಿ (D) ಆಯುರ್ವೇದ

II. ಈ ಕೆಳಗೆ ಕೊಟ್ಟಿರುವ " ಶ್ರವಣಕುಮಾರ" ಪರಿತ ಗದ್ಯಭಾಗವನ್ನು ಓದಿಕೊಂಡು, ಅದರ ಕೆಳಗೆ ಕೊಟ್ಟಿರುವ ಪ್ರಶ್ನೆಗಳಿಗೆ ಉತ್ತರ ಬರೆಯಿರಿ.

ಕಾಡು, ಸುತ್ತಲೂ ಗಿಡಮರಬಳ್ಳಿ, ಅದರ ನಡುವೆ ಒಂದು ಪುಟ್ಟ ಕುಟೀರ. ಅಲ್ಲಿ ತಾಂಡವ ಮುಷಿ ತಮ್ಮ ಪತ್ನಿಯೊಂದಿಗೆ ವಾಸವಾಗಿದ್ದರು. ಅವರಿಗೆ ಒಬ್ಬನೇ ಮಗ. ಅವನ ಹೆಸರು ಶ್ರವಣಕುಮಾರ. ಅವರಿಗೆ ಮುಪ್ಪು

ಅವರಿಸಿತ್ತು. ಪುಣ್ಯ ಕ್ಷೇತ್ರಗಳಿಗೆ ಹೋಗಬೇಕು. ತೀರ್ಥ ಸ್ನಾನ ಮಾಡಬೇಕು ಎಂದು ಚಡಪಡಿಸುತ್ತಿದ್ದರು. ಅವರ ಅವರಿಗೆ ಕಣ್ಣು ಕಾಣುತ್ತಿರಲಿಲ್ಲ.

ಶ್ರವಣಕುಮಾರನಿಗೆ ತಂದೆ-ತಾಯಿಗಳ ಮೇಲೆ ಅಪಾರ ಪ್ರೀತಿ. ಶ್ರವಣಕುಮಾರ ಅವರ ಅಸೆಯನ್ನು, ಅರಿತನು. ಹೇಗಾದರೂ ಮಾಡಿ ತೀರ್ಥಯಾತ್ರೆ ಮಾಡಿಸಬೇಕೆಂದು ಯೋಚಿಸತೊಡಗಿದ. ಈ ಮುಂದುವರಿಸಿ, ಕಾವಡಿಯಲ್ಲಿ ಕುಳಿರಿಸಿ ಕರೆದೊಯ್ಯುವ ಉಪಾಯ ಹೊಳೆಯಿತು. ಉದ್ಯಾನದ ಗಟ್ಟಿ ಬಿದಿರು ತೆಗೆದುಕೊಂಡನು. ಎರಡು ಬದಿಯಲ್ಲಿ ತಕ್ಕಡಿಯಂತೆ ಬುಟ್ಟಿಗಳನ್ನು ಕಟ್ಟಿದ. ಅದೇ ಕಾವಡಿ. ಅದರಲ್ಲಿ ತಂದೆ-ತಾಯಿ ಇಬ್ಬರನ್ನು ಕೂಡಿಸಿದ. ಕಾವಡಿಯನ್ನು ಹೇಗಲ ಮೇಲೆ ಹೊತ್ತು ನಿಂತ. ಅವರ ಪೂರೈಕೆಗಾಗಿ ಹೊರಟೇಬಿಟ್ಟನು!

ಮಾರ್ಗ ಮಧ್ಯದಲ್ಲಿ ಅವರಿಗೆ ಹಣ್ಣುಗಳನ್ನು ತಂದು ಕೊಡುತ್ತಿದ್ದ. ಚಾಯಾರಿದರ ನೀರನ್ನು ತರುತ್ತಿದ್ದ. ಆಯಾಸವರಿತು ವಿಶ್ರಮಿಸಲು ವ್ಯವಸ್ಥೆ ಮಾಡುತ್ತಿದ್ದನು. ಹೀಗೆ ತಂದೆ ತಾಯಿಯರನ್ನು ಹೊತ್ತು ನಡೆಯುತ್ತಿದ್ದಲ್ಲೇ ಇದ್ದ. ಅನೇಕ ಕಾಡು, ಗುಡ್ಡ, ನದಿಗಳನ್ನು ದಾಟುತ್ತ ಪುಣ್ಯ ಕ್ಷೇತ್ರಗಳಿಗೆ ಕರೆದೊಯ್ಯನು. ಅವನ ಹೆತ್ತವರು ಇಂತಹ ಮಗನನ್ನು ಪಡೆದಿದ್ದಕ್ಕೆ ಅಭಿಮಾನ ಪಡುತ್ತಿದ್ದರು.

ಪ್ರಶ್ನೆಗಳು:-

5x1=5

1. ಶ್ರವಣಕುಮಾರನ ತಂದೆ ತಾಯಿ ಮುಪ್ಪಿನ ಕಾಲದಲ್ಲಿ ಯಾವುದಕ್ಕೆ ಚಡಪಡಿಸಿದರು?
2. ಶ್ರವಣಕುಮಾರನ ತಂದೆಯ ಹೆಸರೇನು?
3. ಶ್ರವಣಕುಮಾರನು ಕಾವಡಿಯನ್ನು ಯಾವುದರಿಂದ ತಯಾರಿ ಮಾಡಿದನು?
4. ತೀರ್ಥಯಾತ್ರೆಯ ಸಮಯದಲ್ಲಿ ಶ್ರವಣಕುಮಾರನು ತನ್ನ ತಂದೆ ತಾಯಿಯನ್ನು ಹೇಗೆ ಉಪಚರಿಸಿದನು?
5. ಕುಟೀರವು ಯಾವುದರ ನಡುವೆಯಿತ್ತು?

III. ಈ ಕೆಳಗೆ ಕೊಟ್ಟಿರುವ 'ಜಂಬಣ್ಣ ಅಮರಚಿಂತ' ರವರು ರಚಿಸಿರುವ "ಅಮ್ಮ" ಪರಿತ ಪದ್ಯಭಾಗವನ್ನು ಓದಿಕೊಂಡು, ಅದರ ಕೆಳಗೆ ಕೊಟ್ಟಿರುವ ಪ್ರಶ್ನೆಗಳಿಗೆ ಉತ್ತರ ಬರೆಯಿರಿ.

ನಿನ್ನ ನುಡಿಯ ಜೇನಿನಲ್ಲಿ

ಎದೆಯ ಒಲುಮೆಯ ಸಿರಿಯಲಿ

ಮುದ್ದೆ ಮಾಡಿ ಅನುರಾಗದಿ ನೀಡಿ

ಜೋಗುಳ ಹಾಡುವೆ ಲಾಲಿಯಲಿ

ಮನೆಯ ಮೊದಲ ಪಾಠಶಾಲೆಯಲಿ

ಗುಟುಕಿಟ್ಟು ನಭಕೆ ಹಾರಲು ಕಲಿಸಿ

ತಪ್ಪು-ನಪ್ಪುಗಳ ಮರೆತು ಕರುಣೆಯಲಿ

ಊಟಿಯಂದದಿ ನೆಗೆನೆಗೆದು ಬರುವೆ ಅರಸಿ

ಮಹಾತ್ಮನಿರಲಿ ಮಂಕನಿರಲಿ
ಜಗದೊಡೆಯನಾಗಲೆಂದು ಹರಸು ಮಾತೆ
ಗುರಿ ಮರೆತ ಬಾಳಿಗೆ ನೀ ದಿಕ್ಕೂಚಿ
ನೀ ಬರಿ ಅಮ್ಮಳಲ್ಲ ನಡೆದಾಡುವ ದೇವತೆ

5x1=5

ಪ್ರಶ್ನೆಗಳು:-

1. ಕವಿಯು ಅಮ್ಮನನ್ನು ಏನೆಂದು ಕರೆದಿದ್ದಾರೆ?
2. ಮಗುವಿಗೆ ಮೊದಲ ಪಾಠಶಾಲೆ ಯಾವುದು?
3. ತಾಯಿಯ ನುಡಿಯಲ್ಲಿ ಏನು ತುಂಬಿದೆ ಎಂದು ಕವಿ ಹೇಳುತ್ತಾರೆ?
4. ಅಮ್ಮ ಯಾವುದಕ್ಕೆ ದಿಕ್ಕೂಚಿಯಾಗುವಳು?
5. ತಾಯಿ ಜೋಗುವವನ್ನು ಹೇಗೆ ಹಾಡುತ್ತಾಳೆ?

SECTION -B

(ಅನ್ವಯಿಕ ವ್ಯಾಕರಣ ಮತ್ತು ಪಠ್ಯಪೂರಕ ಅಧ್ಯಯನ) 10 ಅಂಕಗಳು

IV. ಕೆಳಗಿನ ಪ್ರತಿಯೊಂದು ಬಹು ಆಯ್ಕೆ ಪ್ರಶ್ನೆಗಳಿಗೆ ನಾಲ್ಕು ಉತ್ತರವನ್ನು ಕೊಡಲಾಗಿದೆ. ಸರಿಯಾದ ಉತ್ತರವನ್ನು ಆರಿಸಿ ಬರೆಯಿರಿ. 7x1=7

1. 'ಹಂಗಿಸು' ಪದದ ಸಮಾನಾರ್ಥಕ ಪದ _____
(A) ಮೂದಲಿಸು (B) ನೆತ್ತರು (C) ರೋಧಿಸು (D) ಉಪಾಯ
2. ರಾಜನು ಯುದ್ಧದಲ್ಲಿ ವೀರಾವೇಶದಿಂದ ಹೋರಾಡಿದನು. - ಈ ವಾಕ್ಯದಲ್ಲಿ ಗೆರೆಯೆಳೆದ ಪದದ ವಿಭಕ್ತಿ ತಿಳಿಸಿ.
(A) ಪ್ರಥಮಾ (B) ದ್ವಿತೀಯಾ (C) ತೃತೀಯಾ (D) ಸಪ್ತಮೀ
3. ಕುರುಡರ ಮತ್ತು ಕುಂಟರ ಬಗ್ಗೆ ಅನುಕಂಪ ಬೇಡ ಪ್ರೀತಿ ಇರಲಿ. - ಈ ವಾಕ್ಯದಲ್ಲಿ ಗೆರೆಯೆಳೆದ ಪದಗಳ ವಿಶೇಷತೆ ಗುರುತಿಸಿ.
(A) ರೂಢನಾಮ (B) ಸರ್ವನಾಮ (C) ಅನ್ವರ್ಥನಾಮ (D) ಅಂಕಿತನಾಮ
4. ಅರಸು- ಹರಸು - ಈ ಪದಗಳ ಅರ್ಥವ್ಯತ್ಯಾಸ ಕ್ರಮ ಹೀಗಿದೆ.
(A) ಹುಡುಕು-ಆಶೀರ್ವದಿಸು (B) ಸ್ವಚ್ಛಗೊಳಿಸು-ಸುಂದರ (C) ಕಣ್ಮರೆ-ಪ್ರಾರ್ಥನೆ (D) ಜಿಗಿ-ನಗು
5. 'ಬಲಿಷ್ಠ' ಈ ಪದದ ವಿರುದ್ಧ ಪದ
(A) ಬಲವಂತ (B) ಭಂಡ (C) ಬಲಹೀನ (D) ಸುಬಲಿಷ್ಠ.
6. ಶಾರದೆ ಪಾಠವನ್ನು ಶ್ರದ್ಧೆಯಿಂದ ಮನಸ್ಸಿಟ್ಟು ಓದಿದಳು - ಈ ವಾಕ್ಯದಲ್ಲಿರುವ ಕರ್ತೃ ಮತ್ತು ಕ್ರಿಯಾಪದವನ್ನು ಗುರುತಿಸಿ.
(A) ಶಾರದೆ - ಓದಿದಳು (B) ಶಾರದೆ - ಪಾಠವನ್ನು (C) ಶಾರದೆ -ಶ್ರದ್ಧೆಯಿಂದ (D) ಶಾರದೆ- ಮನಸ್ಸಿಟ್ಟು

ಕೆಸರು + ಆಯ್ಕೆ - ಈ ಪದವನ್ನು ಕೂಡಿಸಿ ಬರೆಯಿರಿ _____

- (A) ಕೆಸರುಆಯ್ಕೆ (B) ಕೆಸರಾತು (C) ಕೆಸಾಆಯ್ಕೆ (D) ಕೆಸರಾಯ್ಕೆ

V. ಸೂಚನೆಯಂತೆ ಬರೆಯಿರಿ.

3x1=3

1. ಮಾಡಿದುದನ್ನೋ _____ (ಗಾದೆ ಪೂರ್ಣಗೊಳಿಸಿ)
2. ಆಹಾ ಎಂತಹ ಸುಂದರವಾದ ಹೂವು (ಈ ವಾಕ್ಯಕ್ಕೆ ಸೂಕ್ತವಾದ ಲೇಖನಚಿಹ್ನೆಗಳನ್ನು ಹಾಕಿ)
3. 'ಕುಣಿದಾಡು' (ಕೊಟ್ಟಿರುವ ಪದವನ್ನು ಬಳಸಿ ಸ್ವಂತ ವಾಕ್ಯ ಮಾಡಿ)

VI. ಕೆಳಗಿನ ಪ್ರಶ್ನೆಗಳಿಗೆ ನಾಲ್ಕು ಉತ್ತರವನ್ನು ಕೊಡಲಾಗಿದೆ. ಅವುಗಳಲ್ಲಿ ಸರಿಯಾದ ಉತ್ತರವನ್ನು ಆರಿಸಿ ಬರೆಯಿರಿ.

5x1=5

1. ಗಾಳಿಪಟವು ಮೇಲೆ ಮೇಲೆ ಹಾರಲು _____ ಇರಬೇಕು.
(A) ದಾರದ ಗಂಟು (B) ಕಾಗದ (C) ಬಾಲಂಗೋಚಿ (D) ಕಡ್ಡಿಗಳು
2. ಆಕಾಶದಲ್ಲಿ ಹಾರುವ ಗಾಳಿಪಟಗಳು ಮಾನವರ ಸಂದೇಶವನ್ನು _____ ಸಾಗಿಸುವ ರಾಯಭಾರಿಗಳಂತೆ ಕಾಣುವವು.
(A) ಪಾತಾಳಲೋಕಕ್ಕೆ (B) ದೇವಲೋಕಕ್ಕೆ (C) ಭೂಲೋಕಕ್ಕೆ (D) ನಾಗಲೋಕಕ್ಕೆ
2. ಮಕ್ಕಳು ಗಾಳಿಪಟ ಹಾರಿಸಲು ಊರ ಮುಂದಿನ _____ ನಲ್ಲಿ ಸೇರಿದ್ದರು.
(A) ನದಿದಡ (B) ಜಗಲಿ (C) ಬೆಟ್ಟದಮುಂದೆ (D) ಬಯಲಿ
4. ಬಿರುಗಾಳಿಗೆ ಪಟವು ಗಾಳಿಗೆ ಸಿಲುಕಿ ಹರಿದರೆ _____ ಹಿಡಿ ಶಾಪ ಹಾಕುವರು.
(A) ಮಕ್ಕಳು (B) ಹಿರಿಯರು (C) ತಂದೆ ತಾಯಿ (D) ಬಂಧುಬಳಗ
5. ಪಟವು ಆಗಸದಲ್ಲಿ ಹಾರಾಡುತ್ತಿದ್ದರೆ ಎಲ್ಲರಿಗೂ ರಂಗು ರಂಗಿನ _____ ಬಿಡಿಸಿದಂತೆ ಕಾಣುತ್ತದೆ.
(A) ಚಿತ್ರ (B) ರಂಗೋಲಿ (C) ಕಾಮನಬಿಲ್ಲು (D) ಛತ್ರಿಯಂತೆ

PART- B (30 ಅಂಕಗಳು)

SECTION -C

(ಬರವಣಿಗೆಯ ಕೌಶಲ್ಯ) - 8 ಅಂಕಗಳು

VII. ನಿಮ್ಮ ಹುಟ್ಟುಹಬ್ಬಕ್ಕೆ ಆಹ್ವಾನಿಸಿ ನಿಮ್ಮ ಗೆಲೆಯ/ಗೆಲೆತಿಗೊಂದು ಪತ್ರ ಬರೆಯಿರಿ. 4

VIII. ಈ ಕೆಳಗಿನ ಯಾವುದಾದರೂ ಒಂದು ವಿಷಯವನ್ನು ಕುರಿತು ೬-2 ವಾಕ್ಯಗಳಲ್ಲಿ ಕಿರು ಟಿಪ್ಪಣಿ ಬರೆಯಿರಿ. 4

1. ನನ್ನ ಆದರ್ಶ ವ್ಯಕ್ತಿ
2. ವಿದ್ಯಾರ್ಥಿಗಳಲ್ಲಿ ಶಿಸ್ತು
3. ಉದ್ಯಾನವನ

SECTION - D

(ಪಠ್ಯಗಳ ಅಧ್ಯಯನ) = 22 ಅಂಕಗಳು

4x1=4

IX. ಈ ಕೆಳಗಿನ ಪ್ರಶ್ನೆಗಳಿಗೆ ಒಂದು ವಾಕ್ಯದಲ್ಲಿ ಉತ್ತರಿಸಿ.

1. ರಾಮಕೃಷ್ಣ ಪರಮಹಂಸರು ನರೇಂದ್ರನನ್ನು ಯಾವ ಹೆಸರಿನಿಂದ ಕರೆದರು?
2. ರವಿ ಮೂಡುವಾಗ ಯಾರೊಡನೆ ಜಗಳಾಡುವನು?
3. ಪಾಂಡವರು ಅರಗಿನ ಅರಮನೆಯಿಂದ ಯಾವ ಊರಿಗೆ ಬಂದರು?
4. ಮಗು ಯಾವುದಕ್ಕೆ ಹಠ ಮಾಡುತ್ತದೆ?

2x4=8

X. ಈ ಕೆಳಗಿನ ಪ್ರಶ್ನೆಗಳಿಗೆ ಎರಡು-ಮೂರು ವಾಕ್ಯಗಳಲ್ಲಿ ಉತ್ತರಿಸಿ.

1. ಡಾಯರ್ ಸನ್ ಏಕೆ ಬೆರೆಗಾದನು?
2. ಮೇಲೇರಿದ ರವಿ ನೀಡುವ ಸಂದೇಶವೇನು?
3. ರಾಕ್ಷಸನ ಬಳಿಗೆ ಹೊರಟ ಭೀಮನು ತನ್ನ ಹಸಿವನ್ನು ಹೇಗೆ ನೀಗಿಸಿದನು?
4. ಮಗುವಿನ ಚಂದವನ್ನು ಜನಪದರು ಯಾವು ಯಾವುದಕ್ಕೆ ಹೋಲಿಸಿದ್ದಾರೆ?

3x2=6

XI. ಈ ಕೆಳಗಿನ ಪ್ರಶ್ನೆಗಳಿಗೆ ಮೂರು - ನಾಲ್ಕು ವಾಕ್ಯಗಳಲ್ಲಿ ಉತ್ತರಿಸಿ.

1. ಭೀಮನು ರಾಕ್ಷಸನಿಗೆ ಹೇಗೆ ಕೋಪ ಬರಿಸಿದನು? ರಾಕ್ಷಸನೊಂದಿಗೆ ಹೇಗೆ ಹೋರಾಡಿದನು?
2. ತಾಯಿ ತನ್ನ ಕಂದನನ್ನು ಯಾವ ರೀತಿ ಹಾರೈಸುತ್ತಾಳೆ? ಮಗುವಿನ ಗೆಜ್ಜೆ ಕೆಸರಾದರೂ ತಾಯಿ ಬೇಸರ ಪಡುವುದಿಲ್ಲ ಏಕೆ?

2x2=4

XII. ಈ ಮಾತನ್ನು ಯಾರು ಯಾರಿಗೆ ಹೇಳಿದರು?

- 1 " ಶಕ್ತಿಯೇ ಜೀವನ; ದೌರ್ಬಲ್ಯವೇ ಮರಣ"
- 2 "ಮಗು, ಹತ್ತಿರದಲ್ಲಿ ಎಲ್ಲಿಯಾದರೂ ನೀರಿದೆಯಾ? ನೋಡು"



SINDHI HIGH SCHOOL, BENGALURU
ANNUAL EXAMINATION [2025-26]
SUBJECT: MATHEMATICS

Class: V
Date: 16.03.2026
No of Sides: 4

Max Marks: 60
Reading Time: 15 minutes
Writing Time: 2 hours 15 min


GENERAL INSTRUCTIONS:

- This Question Paper has 5 Sections A-E.
- Section A has 14 MCQs carrying 1 mark each
- Section B has 4 questions carrying 02 marks each.
- Section C has 5 questions carrying 03 marks each.
- Section D has 3 question carrying 05 marks.
- Section E has 2 questions carrying 4 marks each.

Sl. No	SECTION A	
	Choose the correct answer.	
1	786342 divided by which number gives a quotient of 1 and a remainder 0? a) 1 b) 786342 c) 0 d) 50,672,009	1
2	Which of the following pairs of decimal numbers is not equivalent? a) 0.7, 0.700 b) 0.15, 0.015 c) 9.73, 9.730 d) 5.06, 5.060	1
3	72015m is equal to _____ a) 72km150m b) 720km 15m c) 7km 215m d) 72km 15m	1
4	The perimeter of a square is 144cm. The length of its side is _____ a) 36 cm b) 72 cm c) 144cm d) 12cm	1
5	What is the volume of a cube of side 10m? a) 100cm b) 1000sq cm c) 1000cm d) 1000cu m	1
6	Which of these decimal numbers represent the fraction $\frac{3}{100}$? a) 3.00 b) 0.3 c) 0.003 d) 0.03	1
7	The sum of 23kg 804 g and 5kg 190g is equal to a) 29.894kg b) 28.994g c) 29.894g d) 28.994kg	1
8	The unit used to measure the area of a postage stamp. a) sq cm b) cm c) cubic cm d) sq meter	1
9	9 million = _____ lakhs a) 90 b) 99 c) 900 d) 9	1

a) Using the scale $1\text{ cm} = 1\text{ m}$ find the actual length of the school van.
 b) A map shows that $1\text{ cm} = 2\text{ km}$. If two cities are 5 cm apart on the map, what is the actual distance between them?

22 Find the area of the triangle using the formula. $1\text{ grid} = 1\text{ cm}^2$ 3



23 A normal train from Chennai to Bangalore takes 6 hours 10 minutes. The Shatabdi express takes 4 hours 45 minutes. How much time do you save by travelling on the Shatabdi? 3

SECTION D

24 The following are the marks obtained by 30 students of class V in math Olympiad exam out of maximum of 25 marks.

Data:

21	19	21	18	23	23	22	17	17	21
20	19	21	24	19	18	18	17	18	19
19	17	19	25	22	18	23	21	18	22

a) Arrange the marks in a table using tally marks and answer the following questions 2

- b) What are the least mark obtained by a student? 1
 What are the highest mark obtained by a student? 1
 How many students got more than 20 marks? 1

25 Vignesh wants to tile the floor of his room with square tile of side 40 cm . Length of his room is 7 m and breadth is 5 m . (a) Find the number of square tiles required. (b) Find the total cost of tiles used for the floor of the room, if the cost of 1 tile is Rs.100. 5

26 a) The Khanna's family was visiting all the tourist places in North India. They travelled 375.5 km a day for 3 days to visit most of the places. How many kilometres did they travel in all? 5
 b) Mrs. Sharma makes fruit milk shake for her family every morning for breakfast. She uses 2.25 litres of milk to prepare. How much milk will she use for a week?

SECTION E

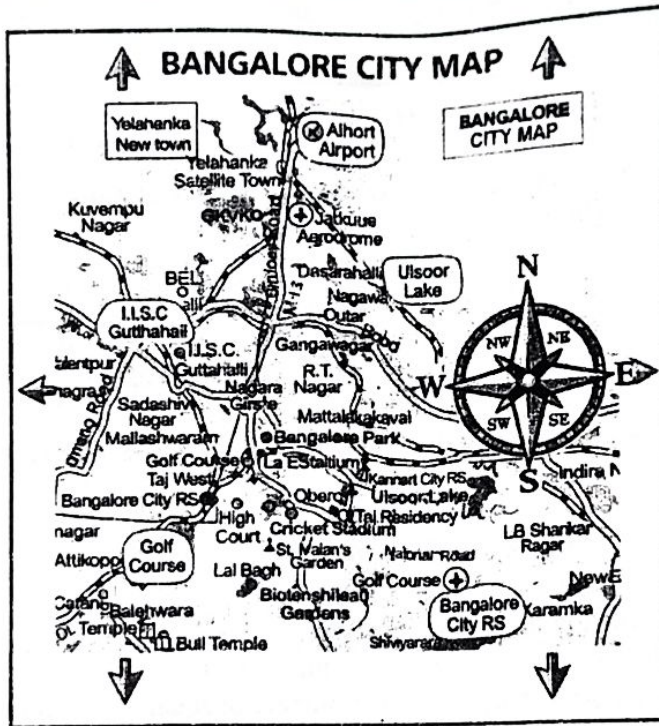
Section E consists of 2 questions of 4 marks

27 Ganesh conducted a survey on 1000 people on their favourite movies. In order to analyse the survey, his friend Karthik helped him by constructing a pie chart.

Favourite movie	No. of people
Adventure	200
Mystery	200
Comedy	500
Drama	100

- Construct the pie chart.
- Give a suitable title to the pie chart.
- Also write the fraction for each part.

28



Read the Bangalore city map and answer the following questions?

- In which direction is Lalbagh from the City Railway Station?
- In which direction is IISc from the City Railway Station?
- If you travel from Lalbagh to Ulsoor Lake, which direction will you move?
- Which place is closest to the city centre — Ulsoor Lake or Airport?




SINDHI HIGH SCHOOL, BENGALURU
ANNUAL EXAMINATION [2025-26]
SUBJECT: SCIENCE



Class: V
Date: 20.03.26
No of Sides: 04

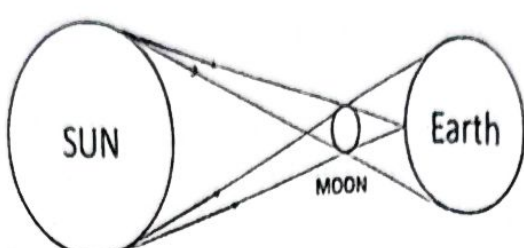
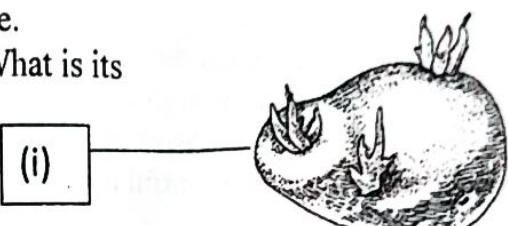

Max. Marks: 60
Reading Time: 15 min
Writing Time: 2 hrs 15 min

GENERAL INSTRUCTIONS:

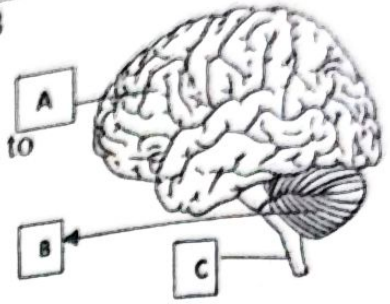
1. This question paper consists of 27 questions
2. All questions are compulsory.
3. Write in neat handwriting.

SECTION A		
	Choose the correct option	(8x1=8)
1.	The part of seed provides food to developing seedling is called: a) Cotyledons b) Embryo c) Seed Coat d) Stem	
2.	The first person to land on moon was _____ a) Yuri Gagarin b) Neil Armstrong c) Edwin Aldrin d) Rakesh Sharma	
3.	Owls are active at night, they come out during the night in search of food. They are called as _____ animals. a) Diurnal b) Arboreal c) Aerial d) Nocturnal	
4.	In which part of our body do we find a similar joint? a) Shoulder b) Knee c) Wrist d) Neck	
5.	Humus is found mainly in _____ a) Top soil b) Sub soil c) Desert soil d) Bedrock	
6.	Biogas burns with a blue flame. Which component of biogas helps it burn? a) Carbon dioxide b) Methane c) Nitrogen d) Oxygen	
7.	During the Independence day celebration, the principal pulls a rope to hoist the flag on the flag post. A simple machine helps to lift the flag easily. The same type of simple machine is also used in which of the following? a) Drawing water from a well b) Wall clock c) Steering wheel of a car d) Bottle cap	
8.	The inner layer of the eye where image is formed is called ____ a) Pupil b) Retina c) Iris d) Cornea	

9.	Give Reason a) There are more chances of falling on a smooth floor. b) Water is known as universal solvent.	
10.	Analogy- a) Whale : Lung : Grasshopper : _____ b) Eye : Optic nerve : Nose : _____ c) Asthma : Air pollution : Dysentery : _____ d) Sputnik 1 : Russia : _____ : India	(4x1)
11.	Odd one out, justify your answer- a) Rose, Radish, Bryophyllum, Mango b) Nutcracker, Forceps, Bottle opener, Wheel-barrow	(2x1=2)
12.	Name the following - a) Waxy covering on the body of insect which are water resistant. b) Energy possessed by a moving object. c) A gradual increase in the overall temperature of the earth. d) The longest bone in human body.	(4x1=4)
SECTION B		
Answer the following questions-		
13.	Segregate the following waste into Biodegradable and non-biodegradable waste a) Pencil shaving b) Egg shell c) Chips packet d) Banana peel	(2)
14.	Ram accidentally touched a very hot pan. He quickly pulled back his hand without thinking. a) What is the reason for his quick response? b) Which part of the nervous system controls such actions?	(2)
15.	Mention the energy conversion in the following pictures: a)  _____ to _____ b)  _____ to _____	(2)
16.	Distinguish between voluntary and involuntary muscles. Give example for each.	(2)

17.	Rahul uses a rod and a small stone placed between the rod and a heavy rock to lift it. a) Name the type of lever used. b) Identify the fulcrum in this arrangement.	(2)												
18.	a) What do you mean by Composting? b) Mention two types of composting.	(2)												
19.	Explain the natural phenomenon shown in the picture 	(2)												
20.	What is soil erosion? How human activities lead to soil erosion?	(2)												
21.	a) Which method of reproduction is shown in the picture? Define. b) Label (i) in the picture. What is its significance? 	(3)												
22.	Complete the following table <table border="1" data-bbox="327 1321 1260 1612"> <thead> <tr> <th>Part of skeletal system</th> <th>Number of bones</th> <th>Organ protected</th> </tr> </thead> <tbody> <tr> <td>Upper part of the skull</td> <td>a) _____</td> <td>b) _____</td> </tr> <tr> <td>c) _____</td> <td>d) _____</td> <td>Spinal cord</td> </tr> <tr> <td>e) _____</td> <td>12 pair</td> <td>f) _____</td> </tr> </tbody> </table>	Part of skeletal system	Number of bones	Organ protected	Upper part of the skull	a) _____	b) _____	c) _____	d) _____	Spinal cord	e) _____	12 pair	f) _____	(3)
Part of skeletal system	Number of bones	Organ protected												
Upper part of the skull	a) _____	b) _____												
c) _____	d) _____	Spinal cord												
e) _____	12 pair	f) _____												
23.	a) Identify the type of farming shown in the picture. b) In which type of areas is this farming practiced? c) How is this method useful? 	(3)												

24.	<p>Riya observes the Moon every evening for a week. She notices that each day a larger portion of the Moon is visible in the sky compared to the previous day.</p> <p>a) What is this change in the Moon's appearance called? b) Why does this change occur? c) Draw neat and labelled diagram showing these phases of moon.</p>	(3)
25.	<p>Write any three adaptive features of birds which enable them to fly.</p>	(3)
26	<p>a) Identify the given picture and label A, B and C.</p> <p>b) Which part of your brain is helping you to recall the answers and solve the question paper?</p> <p>c) Which part of the brain controls your heartbeat?</p>	(4)
27	<p>The heavy rains had turned the water stored in Rina's house muddy and unfit for use. Understanding the importance of clean water, her mother carefully filtered it through a clean cloth to remove the impurities before boiling it, demonstrating a simple yet effective method of purification and a thoughtful approach to maintaining hygiene.</p> <p>a) Mention the method of separation used by Rina's mother.</p> <p>b) Why is this process important before boiling?</p> <p>c) Is clear water obtained after this process, safe for drinking? Justify.</p> <p>d) Mention any two methods to obtain portable water.</p>	<p>1</p> <p>1</p> <p>1</p> <p>2</p>





Sindhi High School, Bengaluru
Annual Examination- 2025-26
Subject: Social Science

Grade: 5 A/B/C/D
Date: 28.03.2026
No. of printed sides: 5




Marks:60
Reading Time-15 minutes
Writing Time- 2 hr 15 min

Section A

Section A		
Q 1.	Multiple choice questions:-	(5x1=5)
1.	_____ the wife of the Nawab of Awadh was a leader of the revolt of 1857 a)Rani Lakshmi Bai b)Queen Victoria c)Begum Hazarat d) Sarojini Naidu	1
2.	The Jallianwala Bagh Massacre took place in Amritsar where those of _____ were killed. a)Educated Indians b) Unarmed Indians c) Indian leaders d)none of these	1
3.	The INC was set up by _____, a retired English officer. a) Allan Octavian Hume b) Queen Victoria c) Lord Curzon d)EEIC	1
4.	The advance phones which have camera and videos camera are called _____ a) telephone b) smart phones c)mobile phones d) all the above	1
5.	The name of United Kingdom's currency is _____ a)Euro b)rupees c)dollar d)pound sterling	1
Q2.	Match the Following :	(5x1=5)
1.	Money	a) speed of 100km
2.	International court of Justices	b) 5 member country veto power
3.	Rajdhani Express	c) equal opportunity to work
4.	ILO	d)15 judges
5.	Security Council	e) coins and notes

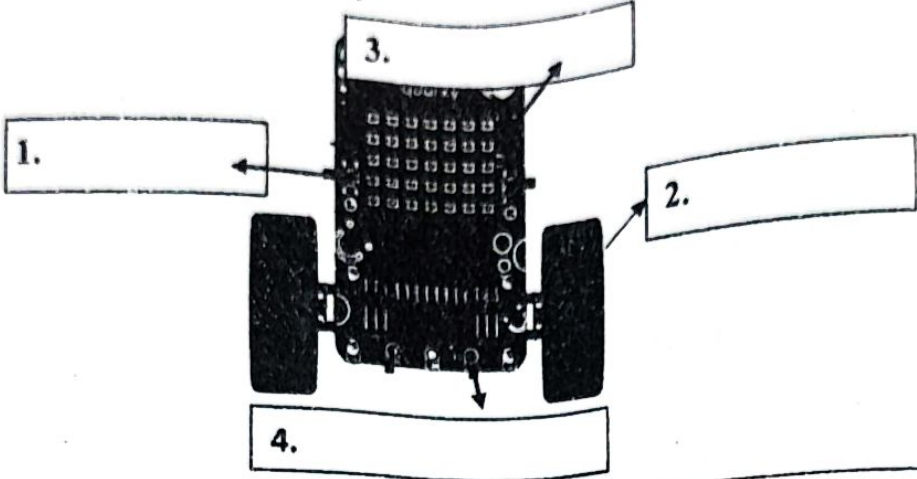
Q3.	Name the following :	(4x1=4)
1.	Money comes in different _____	
2.	Carries out day to day work of the UN _____	
3.	The way in which we send and receive information to a large number is called _____	
4.	A form of political protest when shops are closed and people refuse to work _____	
Q4.	Arrange the following events in chronological order:	(4x1=4)
1.	Civil Disobedience Movement	1
2.	Rowlatt act	1
3.	World War II	1
4.	Beginning of Non-cooperation movement	1
Q5.	Correct the incorrect sentences and rewrite them:	(5x1=5)
1.	The Doctrine of Lapse the Indian ruler had to keep a British officer, called Resident, at their court.	1
2.	The Gir National Park has world's largest population of one horned rhinoceros	1
3.	The British also promoted modern religious education in India.	1
4.	PM Jawaharlal Nehru addressed the nation from Red Fort on Republic Day, 26 th January 1950.	1
5.	Security Council is no longer functional and has agreed to meet only if required to do so.	1
Section B		
Q6.	Differentiate between:	(2x2=4)
1.	Riya observed some imaginary lines on the globe that intersect each other. Explain the difference between latitude and longitude .	2
2.	Seema visited the United Nations and shared her knowledge with her classmates. State any two differences between the International Monetary Fund (IMF) and the World Health Organization (WHO) .	2
Q7.	Give Reasons:	(2x2=4)
1.	Gandhiji called off the non-cooperation movement.	2
2.	The Battle of Plassey was fought in the year 1757	2

Q8.	Answer the following in one sentence:	(4x1=4)
1.	Define: Barter System	1
2.	When was UN formed?	1
3.	What do you mean by communication?	1
4.	Ravi observed that the imaginary lines intersect each other. Help him to name the point of intersection of these imaginary line.	1
Q9.	Answer the following in two to three sentences:	(5x2=10)
1	a) Who introduced subsidiary alliance? b) There were British official in the court of Indian rulers, What was the term used for them?	2
2	People travel across the country but are often unaware of the languages recognized by the Indian Constitution. a) How many languages are recognized by the Indian Constitution? b) Name any two of them.	2
3	a) Where are Ajanta Caves located?	2
	b) What do the walls of their caves tells us about?	2
4	Mention any two aspects of boycott movement.	2
5	Name any four revolutionaries, who inspired people to fight against the British.	2
Section C		
Q10.	Mahatma Gandhi played a vital role in the history of Indian independence. Answer the following questions related to the laws or movements started by him.	(4x1=4)
1	What did Mahatma Gandhi urge people to do?	1
2	State the meaning of Salt Law.	1
3	Why was Quit India Movement started by Mahatma Gandhi?	1
4	Why was Mahatma Gandhi shocked?	1
Q11.	Answer the following in brief:	(3x1=3)

	a) Name the four important latitudes apart from the equator and poles. b) What are the two ends of the Earth's axis known as?	2 1
Q12.	Look at the pictures given below and write one sentence about them:	(3x1=3)
	<div style="display: flex; justify-content: space-around; align-items: center;"> <div style="text-align: center;">  <p>i)</p> </div> <div style="text-align: center;">  <p>ii)</p> </div> <div style="text-align: center;">  <p>iii)</p> </div> </div>	
Section D		
Q13.	Locate the major ports and airports of India on an political map of India:	(1x5=5)
1.	Any one state or UT with International airport.	1
2.	2 Sea ports in Western coastal plain	2
3.	2 Sea ports in Eastern coastal plain	2

Name: _____ Roll no : _____ Class and Sec : _____



5	Which software is used to do AI activities with Quarky? a) MS Word c) Paint b) PictoBlox d) Calculator																
6	IR Sensors are used to a) Play music c) Charge robot b) Detect obstacles d) Move wheels																
III	<p>Name the parts of Quarky:</p> 	1 x 4 = 4															
IV	<p>Match the Following</p> <table border="0" style="width: 100%;"> <tr> <td style="text-align: center;">Column - A</td> <td></td> <td style="text-align: center;">Column - B</td> </tr> <tr> <td>1. Search Engine</td> <td style="text-align: center;">()</td> <td>Converts voice to text</td> </tr> <tr> <td>2. Speech Recognition</td> <td style="text-align: center;">()</td> <td>Finds information online</td> </tr> <tr> <td>3. Website</td> <td style="text-align: center;">()</td> <td>Reads text aloud</td> </tr> <tr> <td>4. Text-to-Speech</td> <td style="text-align: center;">()</td> <td>Group of web pages</td> </tr> </table>	Column - A		Column - B	1. Search Engine	()	Converts voice to text	2. Speech Recognition	()	Finds information online	3. Website	()	Reads text aloud	4. Text-to-Speech	()	Group of web pages	$\frac{1}{2} \times 4 = 2$
Column - A		Column - B															
1. Search Engine	()	Converts voice to text															
2. Speech Recognition	()	Finds information online															
3. Website	()	Reads text aloud															
4. Text-to-Speech	()	Group of web pages															
V	Find out whether the following statements are True or False	$\frac{1}{2} \times 4 = 2$															
1	Self-driving cars need human drivers all the time. ()																
2	AI helps in weather monitoring. ()																
3	A web server stores websites. ()																
4	Social media can be used to connect with people. ()																
VI	Answer the following.	2 x 5 = 10															
1	What is Artificial Intelligence? How does Artificial Intelligence work?	2															

2	Name any four Artificial Intelligent systems.	2
3	What is web browser? Give two examples of web browser.	2
4	Define (a) Robotics.	2x1=2

(b) Quarky

5

Write the steps to send an email.

2

VII

Crossword Puzzle

$\frac{1}{2} \times 4 = 2$

